

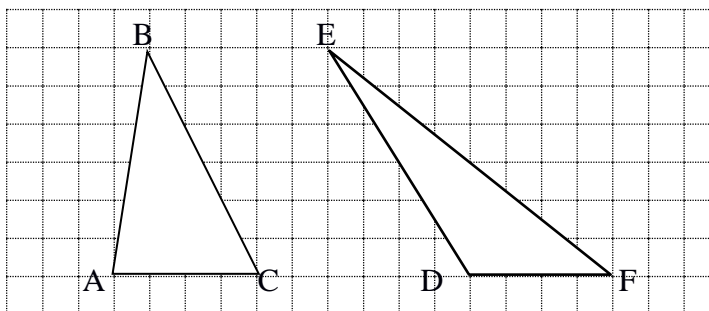
\_\_\_\_\_  
Skolēna vārds, uzvārds

\_\_\_\_\_  
Klase Datums

Daugavpils Krievu vidusskola – licejs  
Skolēna darba lapa

### Vienlieli trijstūri

1.uzdevums. a)Doti divi trijstūri.



Neveicot aprēķinus, nosaki, kura trijstūra laukums ir lielāks. \_\_\_\_\_

Atbildi pamato \_\_\_\_\_

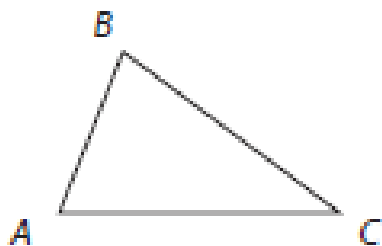
Formulē kas ir jānoskaidro \_\_\_\_\_

b) Aprēķini doto trijstūru laukumus ar trijstūra laukuma formulas palīdzību!

Salīdzini iegūto rezultātu ar atbildi a) punkta. Uzraksti secinājumus! \_\_\_\_\_

**Turpini teikumu!** Par vienlielām trijstūriem sauc trijstūrus, \_\_\_\_\_

**2.uzdevums.** Brālis un māsa mantojumā saņēma 12 ha lielu zemes gabalu, kuram ir trijstūra veids.



Pēc mantošanas nosacījumiem zemes gabals ir jāsadala divās daļās tā, lai to laukumi būtu vienādi.

Parādi zīmējumā, kā jāsadala zemes gabali!

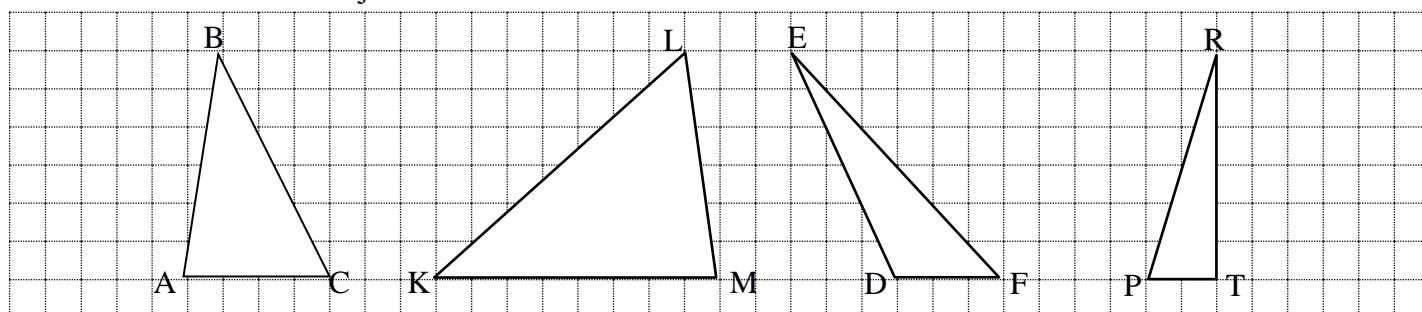
Pamato savu zīmējumu \_\_\_\_\_  
\_\_\_\_\_

Kādas figūras izveidojās? \_\_\_\_\_

Kā būtu jāsadala zemes gabali vienlielās daļās, ja to mantotu trīs cilvēki? \_\_\_\_\_  
\_\_\_\_\_  
\_\_\_\_\_

Jautājumi: \_\_\_\_\_

**3.uzdevums.** Doti četri trijstūri.



Neveicot aprēķinus, nosaki, kuru trijstūru laukumi atšķiras tieši 2 reizes \_\_\_\_\_

Atbilde pamato \_\_\_\_\_

Jautājumi: \_\_\_\_\_

Kas izdevās? Kas neizdevās? Kādas bija problēmas? Kas bija sarežģīti? Kādi palika jautājumi?  
\_\_\_\_\_